

**Arkusze zawiera informacje prawnie
chronione do momentu rozpoczęcia egzaminu**

Układ graficzny © CKE 2020



Nazwa kwalifikacji: **Montaż i konserwacja instalacji elektrycznych**
Oznaczenie kwalifikacji: **E.08**
Numer zadania: **01**
Wersja arkusza: **SG**

Miejsce na naklejkę z numerem
PESEL i z kodem ośrodka

Wypełnia zdający

Numer PESEL zdającego*

--	--	--	--	--	--	--	--	--	--	--	--	--	--	--	--	--	--	--	--

E.08-01-22.06-SG

Czas trwania egzaminu: **180 minut**

EGZAMIN POTWIERDZAJĄCY KWALIFIKACJE W ZAWODZIE **Rok 2022** **CZĘŚĆ PRAKTYCZNA**

PODSTAWA PROGRAMOWA
2012

Instrukcja dla zdającego

1. Na pierwszej stronie arkusza egzaminacyjnego wpisz w oznaczonym miejscu swój numer PESEL i naklej naklejkę z numerem PESEL i z kodem ośrodka.
2. Na KARCIE OCENY w oznaczonym miejscu przyklej naklejkę z numerem PESEL oraz wpisz:
 - swój numer PESEL*,
 - oznaczenie kwalifikacji,
 - numer zadania,
 - numer stanowiska.
3. KARTĘ OCENY przełącz zespołowi nadzorującemu.
4. Sprawdź, czy arkusz egzaminacyjny zawiera 5 stron i nie zawiera błędów. Ewentualny brak stron lub inne usterki zgłoś przez podniesienie ręki przewodniczącemu zespołu nadzorującego.
5. Zapoznaj się z treścią zadania oraz stanowiskiem egzaminacyjnym. Masz na to 10 minut. Czas ten nie jest wliczany do czasu trwania egzaminu.
6. Czas rozpoczęcia i zakończenia pracy zapisze w widocznym miejscu przewodniczący zespołu nadzorującego.
7. Wykonaj samodzielnie zadanie egzaminacyjne. Przestrzegaj zasad bezpieczeństwa i organizacji pracy.
8. Jeżeli w zadaniu egzaminacyjnym występuje polecenie „zgłoś gotowość do oceny przez podniesienie ręki”, to zastosuj się do polecenia i poczekaj na decyzję przewodniczącego zespołu nadzorującego.
9. Po zakończeniu wykonania zadania pozostaw rezultaty oraz arkusz egzaminacyjny na swoim stanowisku lub w miejscu wskazanym przez przewodniczącego zespołu nadzorującego.
10. Po uzyskaniu zgody zespołu nadzorującego możesz opuścić salę/miejsce przeprowadzania egzaminu.

Powodzenia!

* w przypadku braku numeru PESEL – seria i numer paszportu lub innego dokumentu potwierdzającego tożsamość

Zadanie egzaminacyjne

Na ścianie montażowej zamontuj układ sterowania oświetleniem korytarza z dwóch miejsc przy użyciu przekaźnika bistabilnego.

Zadanie rozpocznij od uzupełnienia schematu montażowego o sposób podłączenia przekaźnika bistabilnego. Instrukcja podłączenia przekaźnika znajduje się na stanowisku egzaminacyjnym.

Na ścianie montażowej zamontuj elementy instalacji, zgodnie z Rysunkiem 1. *Rozmieszczenie elementów instalacji*. Instalację elektryczną wykonaj na podstawie uzupełnionego schematu montażowego.

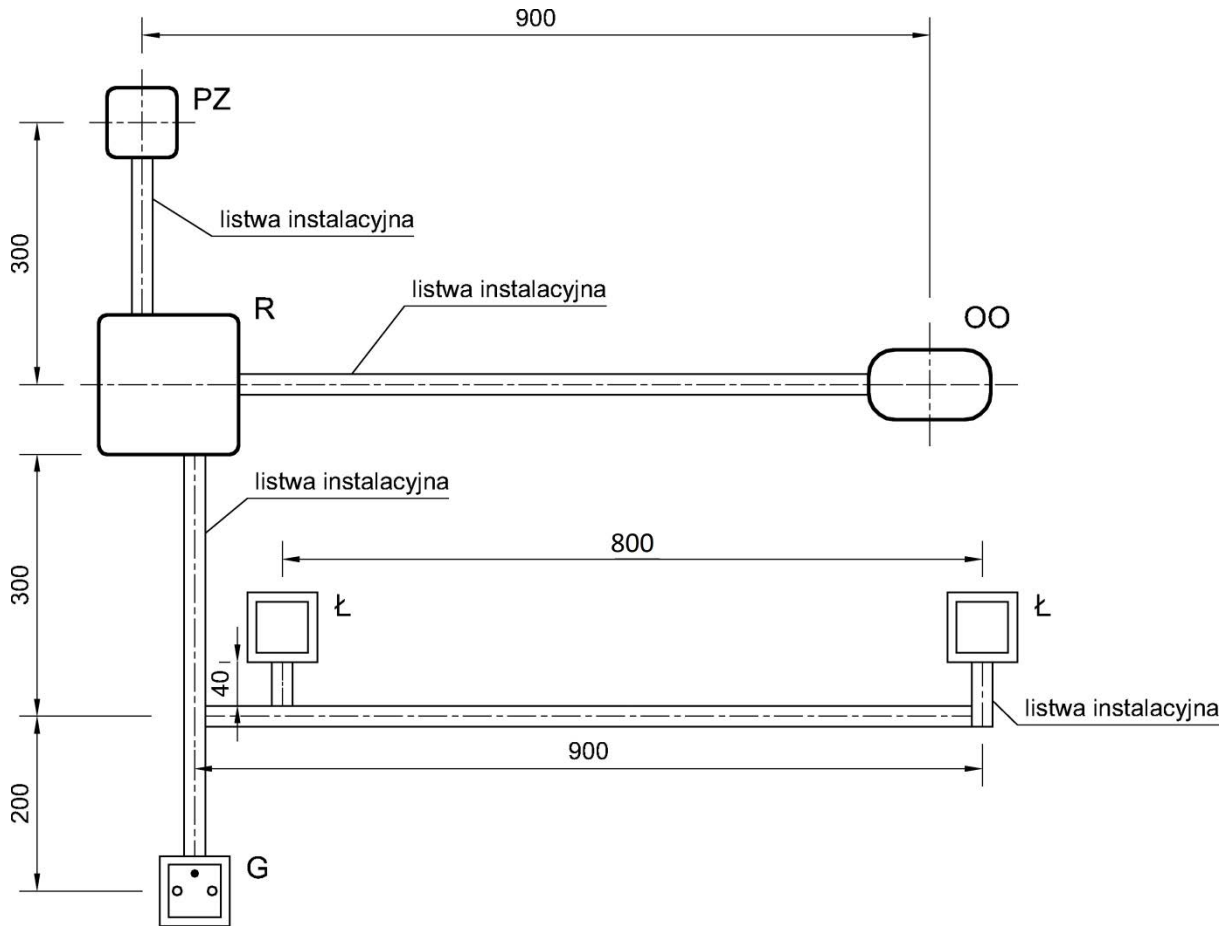
Wszystkie połączenia elektryczne wykonaj przewodami DY 1,5 mm².

Po zakończeniu prac wypełnij *Kartę oceny instalacji elektrycznej*.

UWAGA!

Przez podniesienie ręki zgłoś gotowość do sprawdzenia działania instalacji elektrycznej. Po uzyskaniu zgody załącz napięcie zasilające i sprawdź działanie instalacji. W razie konieczności wykonania poprawek odłącz napięcie zasilania.

Zadanie wykonaj na przygotowanym stanowisku pracy, wyposażonym w niezbędne materiały, narzędzia i sprzęt.



PZ – puszka zasilająca, R – rozdzielnica, OO – oprawa oświetleniowa,
Ł – łącznik natynkowy przyciskowy dzwonekowy, G – gniazdo wtyczkowe

Rysunek 1. Rozmieszczenie elementów instalacji

Czas przeznaczony na wykonanie zadania wynosi 180 minut.

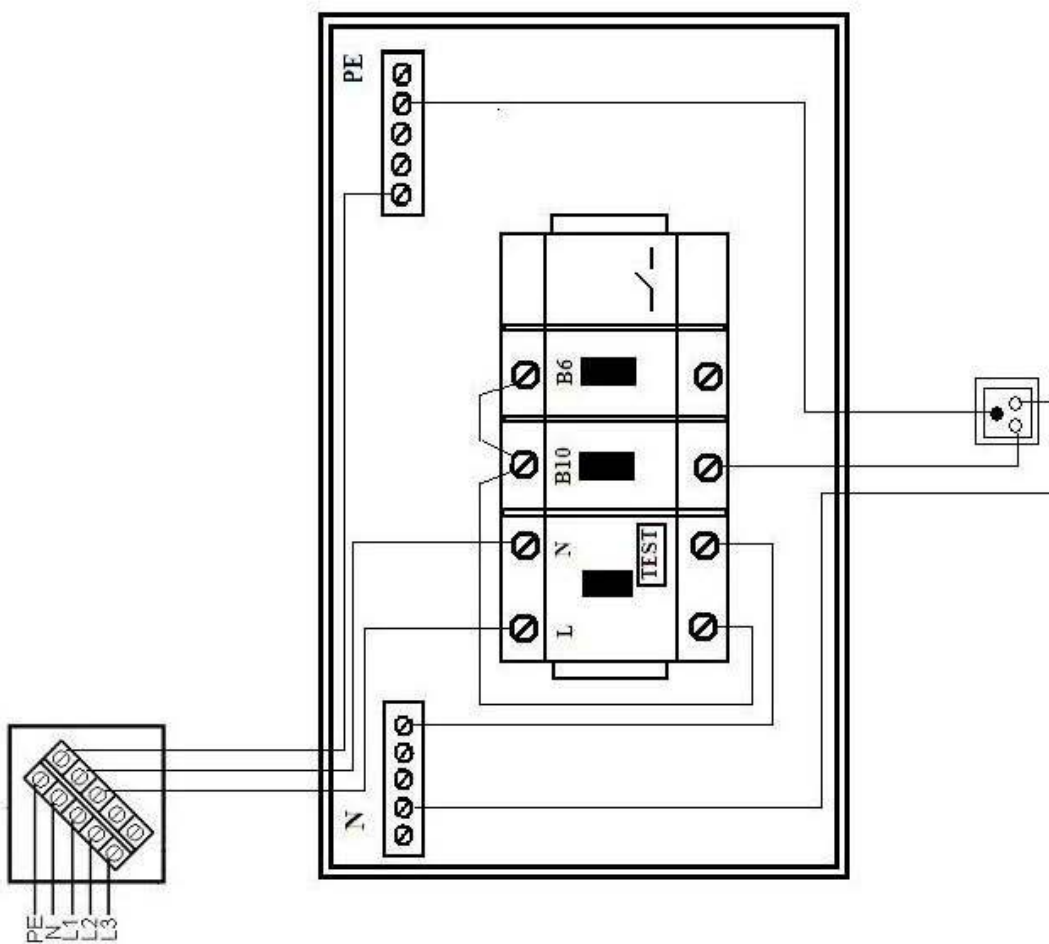
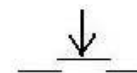
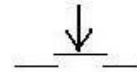
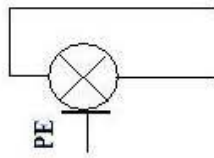
Ocenie podlegać będą 4 rezultaty:

- schemat montażowy instalacji elektrycznej z zastosowaniem przekaźnika bistabilnego,
- połączenia elektryczne oraz elementy instalacji elektrycznej zamontowane na ścianie montażowej,
- działanie instalacji elektrycznej,
- Karta oceny instalacji elektrycznej

oraz

przebieg wykonania instalacji elektrycznej na ścianie montażowej.

Schemat montażowy instalacji elektrycznej z zastosowaniem przekaźnika bistabilnego
(do uzupełnienia o sposób podłączenia przekaźnika bistabilnego)



Karta oceny instalacji elektrycznej			Zaznacz znak X w polu TAK lub NIE	
Lp.	Oceniane elementy instalacji		TAK	NIE
1	Po załączeniu wyłącznika różnicowoprądowego oraz wciśnięciu przycisku TEST wyłącznik wyłącza się			
2	Po załączeniu wyłącznika różnicowoprądowego oraz wyłączników nadprądowych w obwodach nie ma zwarcia			
3	Po załączeniu wyłącznika różnicowoprądowego oraz wyłącznika nadprądowego B10 w gnieździe wtyczkowym występuje napięcie (faza po lewej stronie, zacisk ochronny u góry)			
4	Po załączeniu wyłącznika różnicowoprądowego oraz wyłącznika nadprądowego B6 przyciśnięcie klawisza dowolnego łącznika powoduje zaświecenie żarówki			
5	Przyciśnięcie klawisza drugiego łącznika powoduje zgaszenie żarówki			
6	Ponowne przyciśnięcie klawisza drugiego łącznika powoduje ponowne zaświecenie żarówki			
7	Instalacja działa prawidłowo			
	Stan ciągłości połączeń przewodu ochronnego		Wartość z jednostką miary	Wniosek: zapisz ciągłość lub przerwa
8	Pomiar rezystancji na odcinku między	zaciskiem PE w puszcze zasilającej a szyną PE w rozdzielnicy		
9		szyną PE w rozdzielnicy a zaciskiem ochronnym gniazda wtyczkowego G		
10		szyną PE w rozdzielnicy a zaciskiem ochronnym oprawy oświetleniowej OO		