

*Arkusz zawiera informacje prawnie
chronione do momentu rozpoczęcia egzaminu*

Układ graficzny © CKE 2016

CKE **CENTRALNA
KOMISJA
EGZAMINACYJNA**

Nazwa kwalifikacji: **Szkolenie i użytkowanie koni**
Oznaczenie kwalifikacji: **R.20**
Wersja arkusza: **X**

R.20-X-16.08
Czas trwania egzaminu: **60 minut**

EGZAMIN POTWIERDZAJĄCY KWALIFIKACJE W ZAWODZIE
Rok 2016
CZĘŚĆ PISEMNA

Instrukcja dla zdającego

1. Sprawdź, czy arkusz egzaminacyjny zawiera 10 stron. Ewentualny brak stron lub inne usterki zgłoś przewodniczącemu zespołu nadzorującego.
2. Do arkusza dołączona jest KARTA ODPOWIEDZI, na której w oznaczonych miejscach:
 - wpisz oznaczenie kwalifikacji,
 - zamaluj kratkę z oznaczeniem wersji arkusza,
 - wpisz swój numer PESEL*,
 - wpisz swoją datę urodzenia,
 - przyklej naklejkę ze swoim numerem PESEL.
3. Arkusz egzaminacyjny zawiera test składający się z 40 zadań.
4. Za każde poprawnie rozwiązane zadanie możesz uzyskać 1 punkt.
5. Aby zdać część pisemną egzaminu musisz uzyskać co najmniej 20 punktów.
6. Czytaj uważnie wszystkie zadania.
7. Rozwiązania zaznaczaj na KARCIE ODPOWIEDZI długopisem lub piórem z czarnym tuszem/atramentem.
8. Do każdego zadania podane są cztery możliwe odpowiedzi: A, B, C, D. Odpowiada im następujący układ krerek w KARCIE ODPOWIEDZI:

A	B	C	D
---	---	---	---

9. Tylko jedna odpowiedź jest poprawna.
10. Wybierz właściwą odpowiedź i zamaluj kratkę z odpowiadającą jej literą – np., gdy wybrałeś odpowiedź „A”:

<input checked="" type="checkbox"/>	B	C	D
-------------------------------------	---	---	---

11. Staraj się wyraźnie zaznaczać odpowiedzi. Jeżeli się pomylisz i błędnie zaznaczysz odpowiedź, otocz ją kółkiem i zaznacz odpowiedź, którą uważasz za poprawną, np.

<input checked="" type="checkbox"/>	B	C	<input checked="" type="checkbox"/>
-------------------------------------	---	---	-------------------------------------

12. Po rozwiązaniu testu sprawdź, czy zaznaczyłeś wszystkie odpowiedzi na KARCIE ODPOWIEDZI i wprowadziłeś wszystkie dane, o których mowa w punkcie 2 tej instrukcji.

Pamiętaj, że oddajesz przewodniczącemu zespołu nadzorującego tylko KARTĘ ODPOWIEDZI.

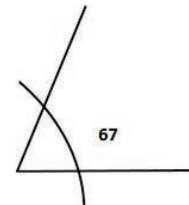
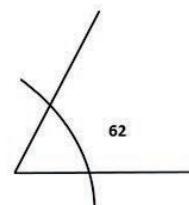
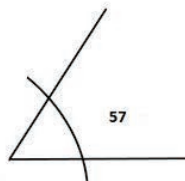
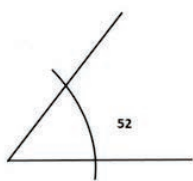
Powodzenia!

* w przypadku braku numeru PESEL – seria i numer paszportu lub innego dokumentu potwierdzającego tożsamość

Zadanie 1.

Skątowanie ściany przedniej kopyta nogi przedniej w stosunku do podłoża u koni ras półkrwi użytkowanych wierzchowo powinno wynosić

- A. 52° (50° - 55°)
- B. 57° (55° - 60°)
- C. 62° (60° - 65°)
- D. 67° (65° - 70°)



Zadanie 2.


Który profil szyi jest cechą rasową u koni czystej krwi arabskiej?

- A. Prosty.
- B. Jeleni.
- C. Koguci.
- D. Łabędzi.

Zadanie 3.

Miejsce zaznaczone strzałką na zdjęciu to

- A. palec Mahometa.
- B. wcięcie siekiery.
- C. pchnięcie lanca.
- D. jelenia szyja.



Zadanie 4.

Najlepsze na świecie rasy koni w konkurencji skoki przez przeszkody oznaczone są skrótami

- A. holst, bwp, zang.
- B. trak, ish, p.r.e.
- C. sp, m, wlkp.
- D. z, xx, oo.

Zadanie 5.

Która spośród wymienionych ras najlepiej sprawdza się w konkurencji jeździeckiej – sportowe rajdy konne?

- A. Huculska.
- B. Haflinger.
- C. Konik polski.
- D. Czysta krew arabska.

Zadanie 6.

W konkurencji skoki przez przeszkody określenie czas maksymalny oznacza

- A. czas, jaki mają zawodnicy na oglądanie parkuru pieszo przed konkursem.
- B. podwójną normę czasu tzn. czas, jaki zawodnik może przebywać na parkurze.
- C. czas oczekiwana na wjazd zawodnika na parkur po zjechaniu poprzedniej pary.
- D. czas, jaki ma zawodnik na przejechanie celowników początkowych po ukłonie i sygnale od sędziego.

Zadanie 7.

Przeszkoda przedstawiona na rysunku to

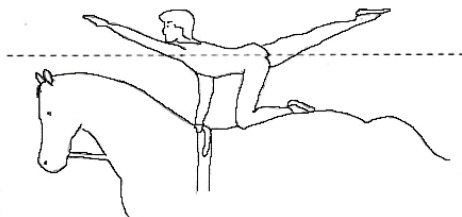
- A. okser.
- B. stacjonarna.
- C. triplebarre.
- D. doublebarre.



Zadanie 8.

Podaj nazwę figury przedstawionej na rysunku z programu obowiązkowego w konkurencji woltyżerka.

- A. Flaga.
- B. Flanka.
- C. Młynek.
- D. Nożyce.



Zadanie 9.

Która skala ocen jest stosowana w czasie czempionatów do oceny koni czystej krwi arabskiej?

- A. 100 punktowa (typ 20 pkt., głowa i szyja 20 pkt., kłoda 20 pkt., nogi 20 pkt. ruch 20 pkt.)
- B. 100 punktowa – ocena bonitacyjna (typ 15 pkt., głowa i szyja 5 pkt., kłoda 15 pkt., nogi przednie 10 pkt., nogi tylne pkt., kopyta 10 pkt., stęp 10 pkt., kłus 10 pkt., wrażenie ogólne 15 pkt.)
- C. 50 punktowa (typ 10 pkt., pokrój 10 pkt., stęp 10 pkt., kłus 10 pkt., wrażenie ogólne (w tym kondycja, pielęgnacja i ogólne przygotowanie konia do wystawy) 10 pkt.)
- D. 40 punktowa (skoki luzem 10 pkt., stęp 10 pkt., kłus 10 pkt., galop 10 pkt.)

Zadanie 10.

Zawody w konkurencji ujeżdżenia rozgrywane są na czworoboku o wymiarach:

- A. 20 x 60 m
- B. 20 x 80 m
- C. 40 x 80 m
- D. 40 x 100 m

Zadanie 11.

Którego z przedstawionych na zdjęciach narzędzi **nie wolno używać** do usuwania zaklejek z sierści konia?



A.



B.



C.



D.

Zadanie 12.

Wskaż chorobę koni, przeciwko której szczepienie jest obowiązkowe dla koni sportowych dwa razy w roku.

- A. Żółty.
- B. Grypa.
- C. Wścieklizna.
- D. Rodokokoza.

Zadanie 13.

W których dwóch chodach odbywa się prezentacja koni ras półkrwi, w ruchu na trójkącie, na pokazach hodowlanych ?

- A. Stępie i kłusie.
- B. Kłusie i galopie.
- C. Stępie i galopie.
- D. Kłusie i piaffie.

Zadanie 14.

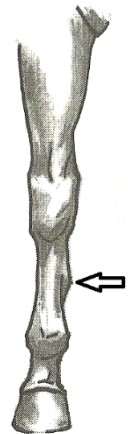
Uderzenie kopytem nogi przedniej lub tylnej o pęcinę sąsiedniej nogi w trakcie ruchu konia to

- A. ściganie.
- B. gonienie.
- C. pęcಿನowanie.
- D. trychowanie.

Zadanie 15.

Schorzenie na przedniej nodze konia, zaznaczone strzałką na rysunku, to

- A. modzel.
- B. ostroga.
- C. kasztan.
- D. nakostniak.



Zadanie 16.

U konia, w stanie spoczynku liczba uderzeń serca na minutę wynosi

- A. 43-47
- B. 36-42
- C. 31-35
- D. 26-30

Zadanie 17.

Temperatura ciała u dorosłego konia wynosi

- A. 37,5-38,5°C
- B. 38,5-39,0°C
- C. 39,0-39,5°C
- D. 39,5-40,5°C

Zadanie 18.

Werkowanie kopyt przeprowadza się

- A. 2 razy do roku.
- B. co 3-4 tygodnie.
- C. co 6-8 tygodni.
- D. przed jazdą i po każdej jeździe.

Zadanie 19.

Wskaż wodze pomocnicze niezależne od ręki jeźdźca, dopuszczalne w trakcie przejazdu na parkurze, w konkurencji skoki przez przeszkody.

- A. Wytok.
- B. Chambon.
- C. Czarna wodza.
- D. Gogue ruchomy.


Zadanie 20.

Do naturalnych pomocy jeździeckich należą:

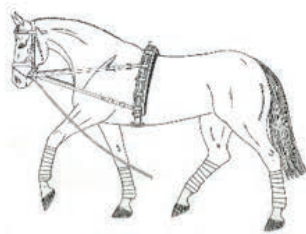
- A. bat, głos, ostrogi.
- B. dosiad, łydka, ręka.
- C. półparada, parada, wodza,
- D. strzemiona, wędzidło, siodło.

Zadanie 21.


Który rysunek przedstawia sposób wypięcia konia do lonżowania na pojedynczej lonży na wypinaczach zwykłych?



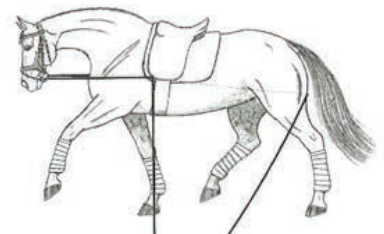
A.



B.



C.



D.

Zadanie 22.

Trzytaktowy chód konia to

- A. stęp.
- B. kłus.
- C. galop.
- D. cwał.

Zadanie 23.

Krótkie mocniejsze zamknięcie konia pomiędzy pomocami ciężaru, łydek i wodzy, po którym wodza działa ustępująco, wykonywane w celu np. zwiększenia uwagi konia przed nowym ćwiczeniem, nazywa się


- A. ustępowaniem.
- B. ustawieniem.
- C. półparadą.
- D. paradą.

Zadanie 24.

Który rysunek przedstawia dosiad widłowy?



A.



B.



C.



D.

Zadanie 25.

„Koń ustawiony i zgięty w kierunku ruchu w taki sposób, że przód pozostaje na śladzie, zad jest wprowadzony do wewnątrz i koń porusza się po czterech liniach.”

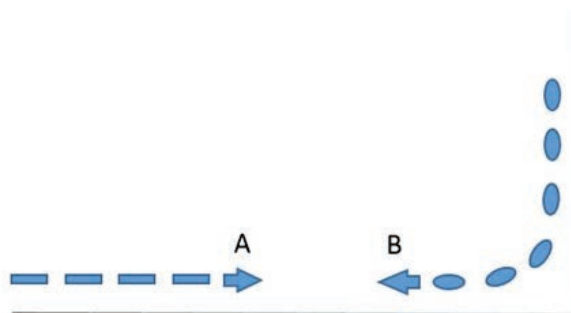
Wskaż ćwiczenie ujeżdżeniowe, którego dotyczy zamieszczony opis zilustrowany rysunkiem.

- A. Trawers.
- B. Renwers.
- C. Łopatka na zewnątrz.
- D. Łopatka do wewnątrz.



Zadanie 26.

W sytuacji przedstawionej na rysunku jeźdźcy A i B poruszają się kłusem po ujeżdżalni. Wskaż, który z jeźdźców ma pierwszeństwo i co powinien zrobić drugi jeździec.



- A. Pierwszeństwo ma jeździec A, jeździec B zjeżdża na drugi ślad do wewnątrz ujeżdżalni.
- B. Pierwszeństwo ma jeździec B, jeździec A zjeżdża na drugi ślad do wewnątrz ujeżdżalni.
- C. Pierwszeństwo ma jeździec B, ponieważ wyjeżdża z zakrętu, jeździec A powinien zrobić woltę na lewą rękę.
- D. Pierwszeństwo ma jeździec A, ponieważ jedzie po pierwszym śladzie na ścianie, jeździec B musi wykonać woltę o średnicy 8 metrów na lewą rękę.

Zadanie 27.

„Ruch przypominający kłus w miejscu, z tym, że koń mocniej ugina stawy zadu, i występuje krótka faza zawieszenia. Mięśnie grzbietu sprężynują elastycznie, a obniżony zad przejmuje mocniejsze obciążenie. Koń unosi przedramiona mniej więcej do poziomu i opuszcza je pionowo w dół.”

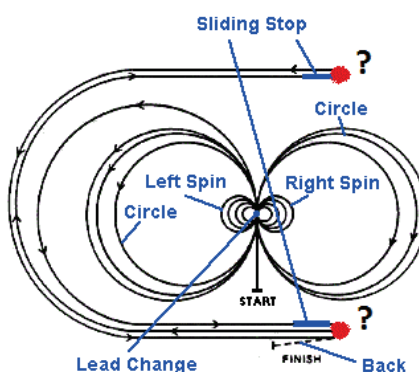
Nazwij opisany ruch i dobierz konkurencję jeździecką, w której jest on wykonywany.

- A. Sliding stop – reining.
- B. Pasaż – ujeżdżenie.
- C. Piaff – ujeżdżenie.
- D. Spin – reining.

Zadanie 28.

Rysunek przedstawia graficzny plan przejazdu w konkurencji reining. Brakujący ruch, wykonywany przez parę jeździec-koń w miejscu zaznaczonym na rysunku czerwoną kropką i znakiem (?) to

- A. backstroke.
- B. rollback.
- C. pattern.
- D. trot.



Zadanie 29.

Wskaż typ siodła przedstawiony na zdjęciu.

- A. Skokowe.
- B. Westernowe.
- C. Ujeżdżeniowe.
- D. Wszechstronne.



Zadanie 30.

Na podstawie zamieszczonych zdjęć rozpoznaj schorzenie kopyta i możliwą przyczynę jego powstania u koni sportowych i rekreacyjnych.

- A. Ochwat – np. przekarmienie paszą treściwą.
- B. Uraz trzeszczki kopytowej – przetrenowanie.
- C. Osteochondroza – chip w stawie kopytowym.
- D. Nagwożdżenie – koń nadepnął na ostry przedmiot.



Zadanie 31.

Zdjęcie przedstawia zaprzęg w stylu angielskim. Po których elementach wystroju można rozpoznać, że zaprzęgiem powozi właściciel zaprzęgu?



- A. Po obecności dwóch luzaków (groomów) na bryczce.
- B. Po żółtym kolorze dyszla, orczyków i kół.
- C. Po szarym cylindrze i metalowych naszelnikach.
- D. Po jednakowej - skarogniadej maści czwórki koni.

Zadanie 32.

W konkurencji ujeżdżenie, cylindra jako nakrycia głowy pozwala się używać zawodnikom

- A. 18-letnim i starszym, wiek konia nie ma znaczenia.
- B. juniorom, dosiadającym koni sześcioletnich i starszych.
- C. młodym jeźdźcom, dosiadającym koni siedmioletnich i starszych.
- D. 22-letnim i starszym, dosiadającym koni siedmioletnich i starszych.

Zadanie 33.

Obowiązkowym wyposażeniem każdego jeźdźcy podczas jazdy konnej na otwartym placu, hali treningowej i w czasie wyjazdów w teren jest

- A. telefon komórkowy.
- B. kask ochronny.
- C. zegarek.
- D. palcat.

Zadanie 34.

Trzecią pomocą używaną w czasie powożenia przez powożącego oprócz lejcy i bata jest

- A. balans bryczki.
- B. ciężar bryczki.
- C. dyszel.
- D. głos.

Zadanie 35.

Osoba podejmująca się zarobkowego transportu koni na terenie Polski powinna posiadać

- A. Srebrną Odznakę Jeździecką Polskiego Związku Jeździeckiego.
- B. dyplom potwierdzający kwalifikację R.20 Szkolenie i użytkowanie koni.
- C. uprawnienia konwojenta zwierząt wydane przez Powiatowego Lekarza Weterynarii.
- D. Odznakę Przodownika Jeździeckiej Nizinnej Turystyki Konnej Polskiego Towarzystwa Turystyczno-Krajoznawczego.

Zadanie 36.

Rasa koni najlepiej nadająca się do górskiej turystyki konnej dla średniozaawansowanych jeźdźców oznaczona jest skrótem

- A. hc.
- B. oo.
- C. śl.
- D. sp.

Zadanie 37.

Na podstawie zamieszczonego zdjęcia rozpoznaj płeć konia, do którego należała przedstawiona czaszka.

- A. Klacz.
- B. Wałach.
- C. Starszy ogier.
- D. Ogierek w wieku 3 lat.



Zadanie 38.

Którą zasadę stosuje się w czasie przejeżdżania zastępu konnego na drugą stronę jezdni w czasie rajdu konnego?

- A. Pierwszy przez jezdnię przejeżdża ostatni koń w zastępie.
- B. Zastęp przejeżdża „gęsiego” za prowadzącym.
- C. Zastęp przejeżdża jednocześnie.
- D. Konie przechodzą parami.

Zadanie 39.

Czerwona wstążka wpleciona w grzywę konia, który uczestniczy w rajdzie wyznaczonym szlakiem konnym, oznacza konia

- A. prowadzącego zastęp.
- B. zamykającego zastęp.
- C. na sprzedaż.
- D. gryzącego.

Zadanie 40.

Znak umieszczony na szlaku konnym oznacza

- A. nakaz poruszania się ze zwiększoną uwagą lub konieczność zejścia z konia ze względu na stromy odcinek szlaku lub zwały leśne itp.
- B. początek lub koniec wspólnego odcinka z innym szlakiem np. pieszym lub rowerowym.
- C. podstawowy znak przebiegu konnego szlaku pomarańczowego.
- D. znak informujący o stajni etapowej.



www.EgzaminZawodowy.info