

**Arkusz zawiera informacje prawnie  
chronione do momentu rozpoczęcia egzaminu**

Układ graficzny © CKE 2020



Nazwa kwalifikacji: **Obsługa geodezyjna inwestycji budowlanych**

Oznaczenie kwalifikacji: **B.35**

Numer zadania: **01**

Wersja arkusza: **SG**

Wypełnia zdający

Miejsce na naklejkę z numerem  
PESEL i z kodem ośrodka

Numer PESEL zdającego\*

--	--	--	--	--	--	--	--	--	--	--	--	--	--	--	--	--	--	--	--

**B.35-01-22.06-SG**

Czas trwania egzaminu: **180 minut**

## **EGZAMIN POTWIERDZAJĄCY KWALIFIKACJE W ZAWODZIE**

**Rok 2022**

**CZĘŚĆ PRAKTYCZNA**

**PODSTAWA PROGRAMOWA  
2012**

### **Instrukcja dla zdającego**

1. Na pierwszej stronie arkusza egzaminacyjnego wpisz w oznaczonym miejscu swój numer PESEL i naklej naklejkę z numerem PESEL i z kodem ośrodka.
2. Na KARCIE OCENY w oznaczonym miejscu przyklej naklejkę z numerem PESEL oraz wpisz:
  - swój numer PESEL\*,
  - oznaczenie kwalifikacji,
  - numer zadania,
  - numer stanowiska.
3. Sprawdź, czy arkusz egzaminacyjny zawiera 6 stron i nie zawiera błędów. Ewentualny brak stron lub inne usterki zgłoś przez podniesienie ręki przewodniczącemu zespołu nadzorującego.
4. Zapoznaj się z treścią zadania oraz stanowiskiem egzaminacyjnym. Masz na to 10 minut. Czas ten nie jest wliczany do czasu trwania egzaminu.
5. Czas rozpoczęcia i zakończenia pracy zapisze w widocznym miejscu przewodniczący zespołu nadzorującego.
6. Wykonaj samodzielnie zadanie egzaminacyjne. Przestrzegaj zasad bezpieczeństwa i organizacji pracy.
7. Po zakończeniu wykonania zadania pozostaw arkusz egzaminacyjny z rezultatami oraz KARTĘ OCENY na swoim stanowisku lub w miejscu wskazanym przez przewodniczącego zespołu nadzorującego.
8. Po uzyskaniu zgody zespołu nadzorującego możesz opuścić salę/miejsce przeprowadzania egzaminu.

***Powodzenia!***

\* w przypadku braku numeru PESEL – seria i numer paszportu lub innego dokumentu potwierdzającego tożsamość

## Zadanie egzaminacyjne

Oblicz współrzędne prostokątne  $X$ ,  $Y$  punktów 1, 2, 3 i 4, stanowiących narożniki płyty fundamentowej, które pomierzono kontrolnie metodą biegunową. Pomiar wykonano tachimetrem ze stanowiska w punkcie  $S$  w nawiązaniu do punktu  $M$ . Wyniki pomiaru zamieszczono w tabeli 1. Układ punktów pomiarowych oraz ich wzajemne rozmieszczenie przedstawiono na rysunku 1.

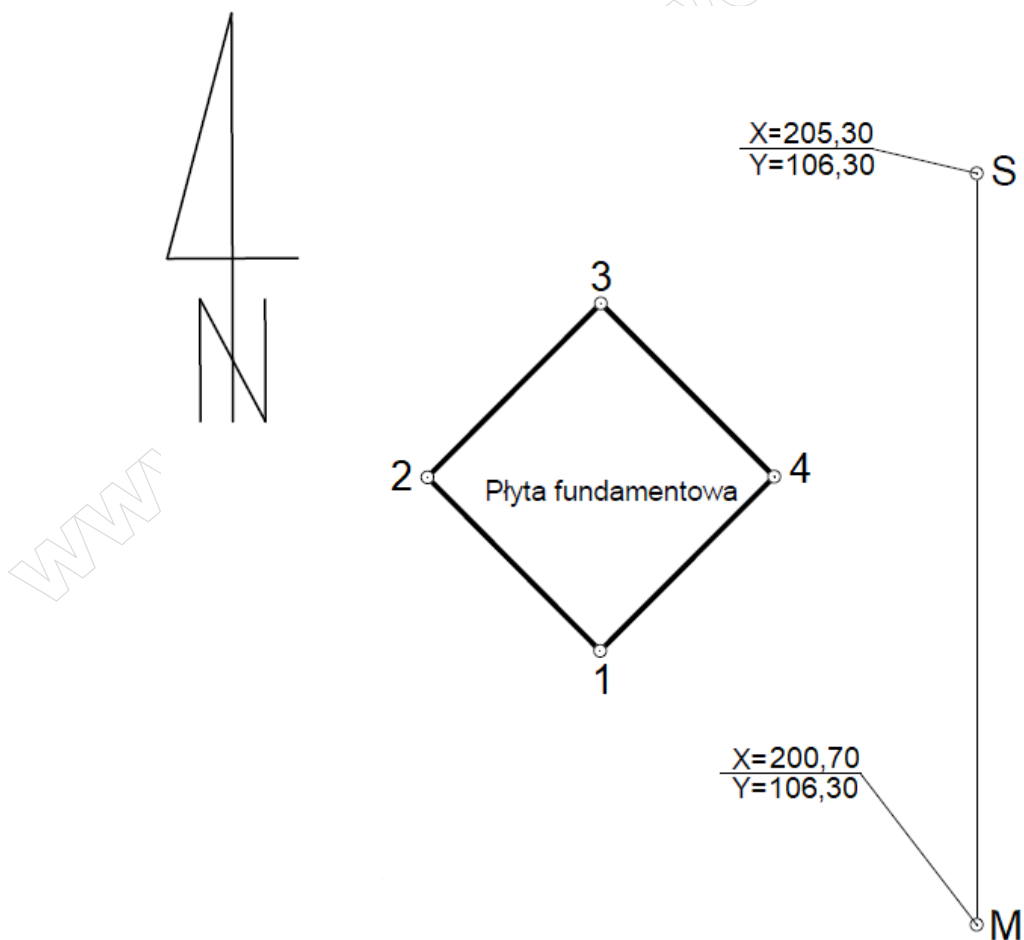
Opracuj geodezyjnie projekt przyłącza wodociągowego, którego projekt przedstawiono na rysunku 2. W tym celu oblicz:

- azymut  $A_{G4-G3}$  oraz długość linii granicznej  $G4-G3$  ze współrzędnych prostokątnych,
- współrzędne prostokątne  $X$ ,  $Y$  punktów 101, 102, 103 i 104, stanowiących punkty załamania przewodu przyłącza wodociągowego - metodą ortogonalną od linii granicznej  $G4-G3$ ,
- miary niezbędne do wytyczenia w terenie punktów 101, 102, 103 i 104 - metodą biegunową ze stanowiska  $S$  w nawiązaniu do punktu  $M$ .

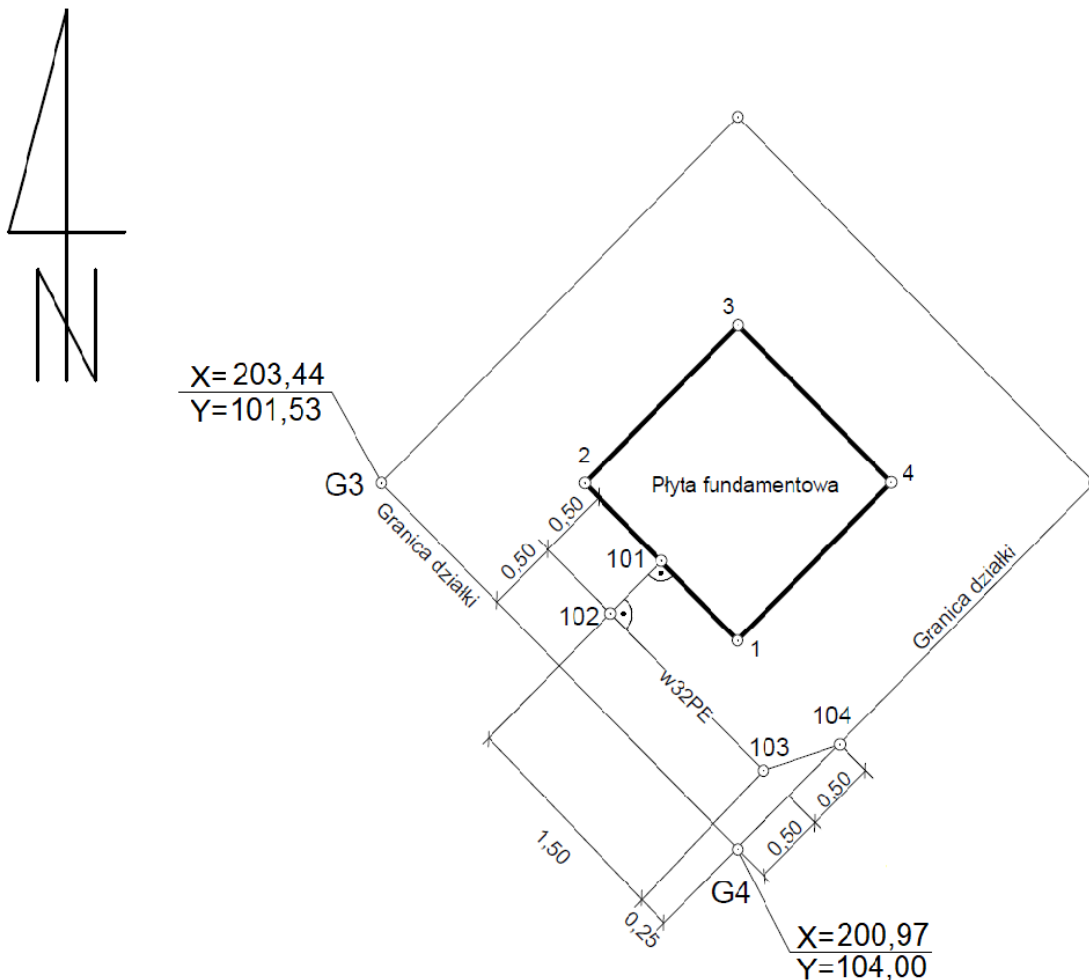
Wyniki obliczeń zapisz z następującą precyzją:

- 0,01 m – współrzędne prostokątne i odległości,
- 0,0001<sup>g</sup> – miary kątowe.

Na podstawie obliczonych miar uzupełnij szkic ilustrujący rozmieszczenie punktów załamania przewodu przyłącza wodociągowego.



Rysunek 1. Układ punktów pomiarowych i ich wzajemne rozmieszczenie



Rysunek 2. Projekt przyłącza wodociągowego

Czas przeznaczony na wykonanie zadania wynosi 180 minut.

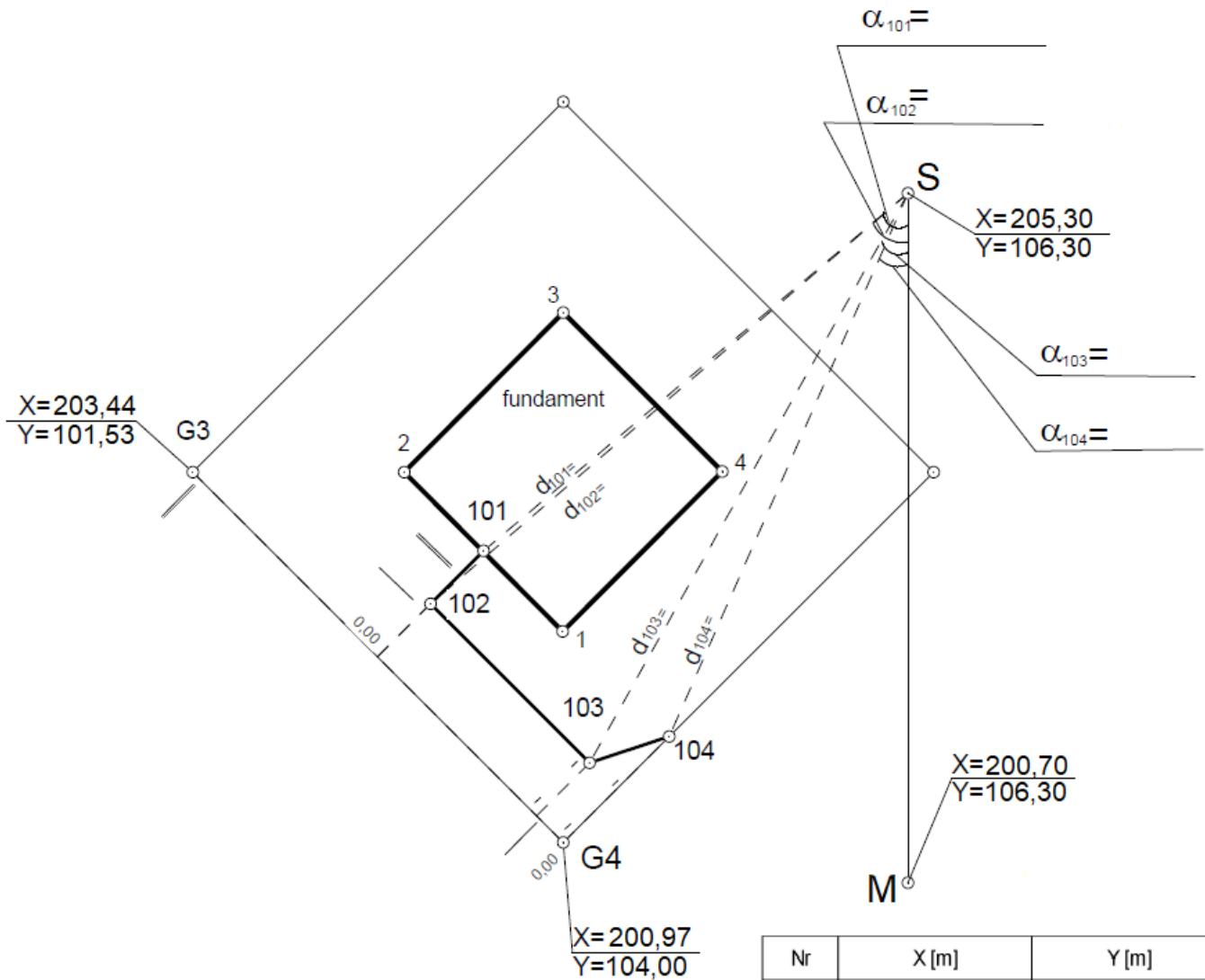
Ocenie podlegać będzie 5 rezultatów:

- obliczenia współrzędnych prostokątnych X, Y punktów 1, 2, 3, 4 metodą biegunową – w tabeli 1,
- obliczenia azymutu  $A_{G4-G3}$  oraz długości linii granicznej G4-G3 ze współrzędnych prostokątnych – w tabeli 2,
- obliczenia współrzędnych prostokątnych X, Y punktów 101, 102, 103 i 104 metodą ortogonalną od linii granicznej G4-G3 – w tabeli 3,
- obliczenia miar niezbędnych do wytyczenia w terenie punktów 101, 102, 103 i 104 metodą biegunową ze stanowiska S w nawiązaniu do punktu M – w tabeli 4,
- uzupełniony szkic rozmieszczenia punktów załamania przewodu przyłącza wodociągowego.





### Szkic rozmieszczenia punktów załamania przewodu przyłącza wodociągowego



Nr	X [m]	Y [m]
101		
102		
103		
104		

Szkic rozmieszczenia punktów załamania przewodu przyłącza wodociągowego				SZKIC NR XXXXXXXXX
	Data	Wykonawca Imię i Nazwisko	Rodzaj pracy: XXXXXXXXXX	Obiekt XXXXXXXXXX (dz) XXXXXXXXXX
Sporządził	XXXXXX	XXXXXXXXXXXX	Gmina XXXXXXXXXXXX	Nr ks. rob....XXXXXXXXXX...
Kontr. techn. przeprowadził	XXXXXX	XXXXXXXXXXXX	Obwód XXXXXXXXXXXX	KERG.....XXXXXXXXXX....