

Nazwa kwalifikacji: **Organizacja i nadzorowanie produkcji rolniczej i pszczelarskiej**

Oznaczenie kwalifikacji: **RL.17**

Wersja arkusza: **SG**

Czas trwania egzaminu: **60 minut**

RL.17-SG-22.01

## **EGZAMIN POTWIERDZAJĄCY KWALIFIKACJE W ZAWODZIE**

**Rok 2022**

**CZĘŚĆ PISEMNA**

**PODSTAWA PROGRAMOWA  
2017**

### **Instrukcja dla zdającego**

1. Sprawdź, czy arkusz egzaminacyjny zawiera 16 stron. Ewentualny brak stron lub inne usterki zgłoś przewodniczącemu zespołu nadzorującego.
2. Do arkusza dołączona jest KARTA ODPOWIEDZI, na której w oznaczonych miejscach:
  - wpisz oznaczenie kwalifikacji,
  - zamaluj kratkę z oznaczeniem wersji arkusza,
  - wpisz swój numer PESEL\*,
  - wpisz swoją datę urodzenia,
  - przyklej naklejkę ze swoim numerem PESEL.
3. Arkusz egzaminacyjny zawiera test składający się z 40 zadań.
4. Za każde poprawnie rozwiązane zadanie możesz uzyskać 1 punkt.
5. Aby zdać część pisemną egzaminu musisz uzyskać co najmniej 20 punktów.
6. Czytaj uważnie wszystkie zadania.
7. Rozwiązania zaznaczaj na KARCIE ODPOWIEDZI długopisem lub piórem z czarnym tuszem/atramentem.
8. Do każdego zadania podane są cztery możliwe odpowiedzi: A, B, C, D. Odpowiada im następujący układ krater w KARCIE ODPOWIEDZI:

A	B	C	D
---	---	---	---

9. Tylko jedna odpowiedź jest poprawna.
10. Wybierz właściwą odpowiedź i zamaluj kratkę z odpowiadającą jej literą – np., gdy wybrałeś odpowiedź „A”:

<input checked="" type="checkbox"/>	B	C	D
-------------------------------------	---	---	---

11. Staraj się wyraźnie zaznaczać odpowiedzi. Jeżeli się pomylisz i błędnie zaznaczysz odpowiedź, otocz ją kółkiem i zaznacz odpowiedź, którą uważasz za poprawną, np.

<input checked="" type="checkbox"/>	B	C	<input checked="" type="checkbox"/>
-------------------------------------	---	---	-------------------------------------

12. Po rozwiązaniu testu sprawdź, czy zaznaczyłeś wszystkie odpowiedzi na KARCIE ODPOWIEDZI i wprowadziłeś wszystkie dane, o których mowa w punkcie 2 tej instrukcji.

**Pamiętaj, że oddajesz przewodniczącemu zespołu nadzorującego tylko KARTĘ ODPOWIEDZI.**

**Powodzenia!**

\* w przypadku braku numeru PESEL – seria i numer paszportu lub innego dokumentu potwierdzającego tożsamość

**Zadanie 1.**

Którą roślinę należy uwzględnić w zmianowaniu, by wzbogacić glebę w azot?

- A. Jęczmień jary.
- B. Rzepak ozimy.
- C. Kapustę pastewną.
- D. Koniczynę czerwoną.

**Zadanie 2.**

Ile kg soli potasowej 60% należy zastosować pod ziemniaki, aby dawka czystego składnika wyniosła 150 kg/ha?

- A. 150 kg
- B. 250 kg
- C. 300 kg
- D. 400 kg

**Zadanie 3.**

Środki ochrony roślin	Nazwa środka	Zwalczanie	Zalecana dawka na 1 ha
Herbicyd	Granstar Ultra SX 50 SG	Gwiazdnica pospolita, przytulia czepna, ostrożeń polny. Od fazy 3 liści do fazy strzelania w źdźbło	Zalecana dawka 60 g/ha środka + adjuwant Trend 90 EC w stężeniu 0,05% (50 ml na 100 l wody)

Na podstawie danych zawartych w przedstawionej tabeli oblicz, ile preparatu należy zastosować do zwalczania gwiazdnicy pospolitej i przytulii czepnej na plantacji 20 ha pszenżyta ozimego?

- A. 1,2 kg
- B. 3,2 kg
- C. 6,0 kg
- D. 9,0 kg

#### Zadanie 4.

Który z wymienionych szkodników wywołuje powstawanie typowej, widocznej na ilustracji „brody korzeniowej”?

- A. Mątwik burakowy.
- B. Drobnica burakowa.
- C. Gąsienice błyszczarki.
- D. Larwy koziulłowatych.



#### Zadanie 5.

Do którego zabiegu agrotechnicznego wykorzystywana jest maszyna przedstawiona na ilustracji?

- A. Do koszenia traw.
- B. Do zbioru buraków.
- C. Do zbioru kukurydzy.
- D. Do rozrzucania obornika.



**Zadanie 6.**

Które z przedstawionych na ilustracjach narzędzi należy zastosować do mechanicznego zwalczania perzu w zespole uprawek późniowych na glebach lekkich?



Narzędzie I.



Narzędzie II.



Narzędzie III.



Narzędzie IV.

- A. I.
- B. II.
- C. III.
- D. IV.

### Zadanie 7.

Którego z przedstawionych na ilustracjach narzędzi należy zastosować do wykonania zabiegów chemicznej ochrony roślin w uprawie zbóż?



I.



II.



III.



IV.

- A. I.
- B. II.
- C. III.
- D. IV.

### Zadanie 8.

Na podstawie przedstawionej tabeli określ, jaką dawkę nawozów potasowych należy zaplanować pod zboża na 200 ha, jeżeli w glebie jest wysoka zawartość fosforu i potasu.

- A. 200 – 400 kg
- B. 400 – 800 kg
- C. 2 – 4 tony
- D. 4 – 8 ton

**Tabela 6.** Przybliżone dawki nawozów fosforowych i potasowych pod zboża przy plonie ziarna około 5 t z ha

Zawartość składników w glebie	Zalecane dawki nawozów w kg/ha	
	fosforowych	potasowych
Bardzo niska	60 - 80	80 - 110
Niska	50 - 60	70 - 90
Średnia	40 - 50	50 - 70
Wysoka	20 - 30	20 - 40
Bardzo wysoka	0 - 20	0 - 20

### Zadanie 9.

Który z przedstawionych płodozmianów najlepiej nadaje się do zastosowania na glebach II i III klasy bonitacyjnej, zgodnie ze Zwykłą Dobrą Praktyką Rolniczą i Zasadami Wzajemnej Zgodności?

1. buraki cukrowe
2. jęczmień jary
3. rzepak ozimy
4. pszenica jara

Płodozmian 1.

1. buraki cukrowe
2. jęczmień jary
3. rzepak ozimy
4. żyto ozime

Płodozmian 3.

- A. Płodozmian 1.
- B. Płodozmian 2.
- C. Płodozmian 3.
- D. Płodozmian 4.

1. buraki cukrowe
2. owies
3. rzepak ozimy
4. żyto ozime

Płodozmian 2.

1. buraki cukrowe
2. owies
3. łubin żółty
4. pszenica jara

Płodozmian 4.

### Zadanie 10.

Jaką funkcję w organizmie zwierząt pełni narząd przedstawiony na ilustracji?

- A. Pobudza ruchy perystaltyczne jelit.
- B. Dostarcza składniki odżywcze do organizmu.
- C. Usuwa szkodliwe produkty przemiany materii.
- D. Uczestniczy w procesie oddychania organizmu.



### Zadanie 11.

Jaką funkcję w organizmie zwierząt pełni układ chłonny?

- A. Usuwa szkodliwe produkty przemiany materii.
- B. Pobiera, trawi i wchłania składniki pokarmowe.
- C. Przenosi chłonkę od tkanek do układu krwionośnego.
- D. Reguluje ilość wody i soli mineralnych w organizmie.

**Zadanie 12.**

W chowie jakich zwierząt stosuje się kojec przedstawiony na ilustracji?

- A. Drobiu.
- B. Trzody.
- C. Owiec.
- D. Bydła.



www.EgzaminZawodowy.info

**Zadanie 13.**

Które z narzędzi przedstawionych na ilustracjach można wykorzystać podczas trudnego porodu u bydła?



I.



II.



III.



IV.

- A. I.
- B. II.
- C. III.
- D. IV.

**Zadanie 14.**

Przedstawione na ilustracji stanowiska wykorzystuje się w chowie

- A. koni.
- B. świń
- C. bydła.
- D. owiec.



**Zadanie 15.**

Którą rasę bydła, z przedstawionych na ilustracjach, powinien wybrać gospodarz zajmujący się chowem bydła mięsnego?



Rasa I.



Rasa II.



Rasa III.



Rasa IV.

- A. Rasę I.
- B. Rasę II.
- C. Rasę III.
- D. Rasę IV.

**Zadanie 16.**

Która rasa kóz, z przedstawionych na ilustracjach, nadaje się najbardziej do produkcji mięsa?



Rasa I.



Rasa II.



Rasa III.



Rasa IV.

- A. Rasa I.
- B. Rasa II.
- C. Rasa III.
- D. Rasa IV.

**Zadanie 17.**

Której paszy należy unikać w żywieniu bydła, by nie doszło do wzdęcia?

- A. Młodej wilgotnej zielonki z lucerny.
- B. Wypoconego siana z traw i roślin motylkowych.
- C. Dojrzałej sianokiszonki z podwieńniętych traw.
- D. Dwuletniej kiszonki z kukurydzy o dojrzałości woskowej.

**Zadanie 18.**

Ile wynosi zapotrzebowanie na sianokiszonkę dla 100 sztuk kóz dorosłych na okres żywienia jednego roku (365 dni), jeżeli dzienna dawka wynosi 1 kg?

- A. 365 kg
- B. 10,0 dt
- C. 10,0 ton
- D. 36,5 ton

**Zadanie 19.**

Który z przedstawionych na ilustracjach kolczyków jest przeznaczony dla świń?



Kolczyk 1.



Kolczyk 2.



Kolczyk 3.



Kolczyk 4.

- A. Kolczyk 1.
- B. Kolczyk 2.
- C. Kolczyk 3.
- D. Kolczyk 4.

**Zadanie 20.**

Który z wymienionych dokumentów jest przekazywany nabywcy krowy?

- A. Paszport.
- B. Notes oborowy.
- C. Zgłoszenie urodzenia.
- D. Umowa kupna-sprzedaży.

**Zadanie 21.**

Który z wymienionych podgatunków pszczoł najlepiej wykorzysta uprawę koniczyny czerwonej?

- A. Włoska.
- B. Kraińska.
- C. Kaukaska.
- D. Środkowoeuropejska.

**Zadanie 22.**

Ile powinna wynosić minimalna odległość pasieki od drogi szybkiego ruchu według „Kodeksu dobrej praktyki produkcyjnej w pszczelarstwie”?

- A. 10 metrów
- B. 20 metrów
- C. 40 metrów
- D. 50 metrów

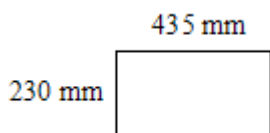
**Zadanie 23.**

Trutowisko jest miejscem stacjonowania

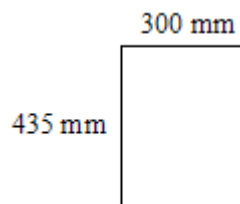
- A. rodzin produkcyjnych na pożytku.
- B. nowoutworzonych rodzin pszczelich.
- C. ulików weselnych i rodzin ojcowskich.
- D. pasieki i budowli pasiecznych przez cały rok.

**Zadanie 24.**

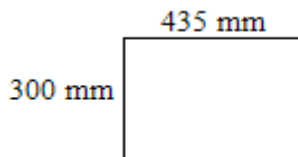
Który rysunek przedstawia kształt i wymiary ramki Dadanta?



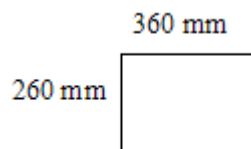
Rysunek 1.



Rysunek 2.



Rysunek 3.



Rysunek 4.

- A. Rysunek 1.
- B. Rysunek 2.
- C. Rysunek 3.
- D. Rysunek 4.

**Zadanie 25.**

Który podstawowy sprzęt pasieczny jest używany do przeprowadzenia przeglądu rodziny pszczelej?

- A. Podkurzacz i skrobak.
- B. Podkurzacz i odsklepiacz.
- C. Podkurzacz i refraktometr.
- D. Podkurzacz i dłuto pasieczne.

**Zadanie 26.**

Pszczelarz stwierdzając chorobę majową u robotnic powinien

- A. podać leki.
- B. przesiedlić do nowego ula.
- C. przenieść ul na nowe pasieczysko.
- D. podkarmić je rzadkim, ciepłym syropem.

**Zadanie 27.**

Który z wymienionych objawów, zauważonych podczas przeglądu wiosennego, wskazuje na konieczność wstawienia ramek z wężą?

- A. Pojawienie się nakropu.
- B. Pobielanie komórek plastrów.
- C. Brak pszczół robotnic za zatworem.
- D. Obecność robotnic na plastrze osłonowym.

**Zadanie 28.**

Pszczelarz planując przewóz pasieki na pożytek do innego powiatu powinien uzyskać i mieć przy sobie w trakcie przewozu pszczół.

- A. Zaświadczenie od prezesa Gminnego Koła Pszczelarzy.
- B. Zaświadczenie o stanie zdrowotnym przewożonej pasieki.
- C. Zgodę Związku Pszczelarskiego na wjechanie na ich teren.
- D. Zaświadczenie o zarejestrowaniu pasieki w Powiatowym Inspektoracie Weterynaryjnym.

**Zadanie 29.**

Pierwszym objawem nastroju rojowego w rodzinie pszczelej jest

- A. wgrzyzienie mateczników.
- B. wychów trutni w rodzinie.
- C. odciążenie licznych mateczników.
- D. zaczerwienie pierwszej miseczki matecznikowej.

**Zadanie 30.**

Na czym, oprócz likwidacji mateczników rojowych, polega wykonanie zabiegu likwidującego nastrój rojowy w rodzinie pszczelej?

- A. Na dodaniu pszczół robotnic.
- B. Na dodaniu czerwiu krytego i pszczół.
- C. Na odebraniu plastrów z czerwiem otwartym.
- D. Na odebraniu części czerwiu krytego i pszczół robotnic.

### Zadanie 31.

1 kg pszczoł to około

- A. 5 000 szt. pszczoł.
- B. 10 000 szt. pszczoł
- C. 15 000 szt. pszczoł
- D. 20 000 szt. pszczoł

### Zadanie 32.

Który z wymienionych zabiegów spowoduje przyspieszenie rozwoju rodziny pszczelej wiosną?

- A. Odsklepienie zapasu pokarmu.
- B. Wstawienie węży pomiędzy czerw.
- C. Poszerzenie uliczek międzyramkowych.
- D. Odsłonięcie siatki w dennicy higienicznej.

### Zadanie 33.

Na ilustracji przedstawiono

- A. łyżeczkę do przekładania larw.
- B. bagietkę do znakowania matek pszczelich.
- C. łyżeczkę do wybierania mleczka pszczelego.
- D. sztancę do wycinania komórki z jajczkiem.



### Zadanie 34.

Metoda wychowu matek pszczelich Dolittle i Pratta polega na

- A. przełożeniu 1-dniowych larw.
- B. umieszczeniu matki w izolatorze.
- C. pozyskaniu z plastra jaj 1-dniowych.
- D. podcinaniu plastra z czerwem w różnym wieku.

### Zadanie 35.

Larwę 1-dniową poddano 10. maja do rodziny wychowującej. Określ termin wygryzienia się matki pszczelej.

- A. 20 maja.
- B. 22 maja.
- C. 24 maja.
- D. 26 maja.

**Zadanie 36.**

Ile wynosi przeciętne spożycie pokarmu węglowodanowego przez rodzinę pszczelą w czerwcu?

- A. 10 kg
- B. 15 kg
- C. 20 kg
- D. 25 kg

**Zadanie 37.**

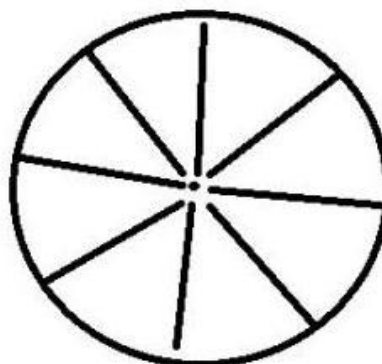
Najszybsze nagromadzenie zapasów na zimę oraz najmniejsze straty cukru w czasie przerobu powstaną, gdy dostarczony jesienią rodzinom pszczelim syrop cukrowy jest sporządzany w proporcji

- A. 1:1
- B. 1:2
- C. 2:1
- D. 3:2

**Zadanie 38.**

W jakiej miodarce sposób ułożenia ramek przedstawiono na schemacie?

- A. Hordialnej.
- B. Diagonalnej.
- C. Promienistej.
- D. Tangensowej.



**Zadanie 39.**

Jaki typ poławiacza pyłku przedstawiono na ilustracji?

- A. Wylotowy.
- B. Dennicowy.
- C. Powałkowy.
- D. Segmentowy.



**Zadanie 40.**

Jaka, na podstawie Rozporządzenia Ministra Rolnictwa i Rozwoju Wsi w sprawie *Jakości handlowej miodu i jego przetworów*, może być maksymalna zawartość wody w dojrzałym miodzie wrzosowym?

- A. 18%
- B. 20%
- C. 23%
- D. 25%

[www.EgzaminZawodowy.info](https://www.EgzaminZawodowy.info)

[www.EgzaminZawodowy.info](https://www.EgzaminZawodowy.info)